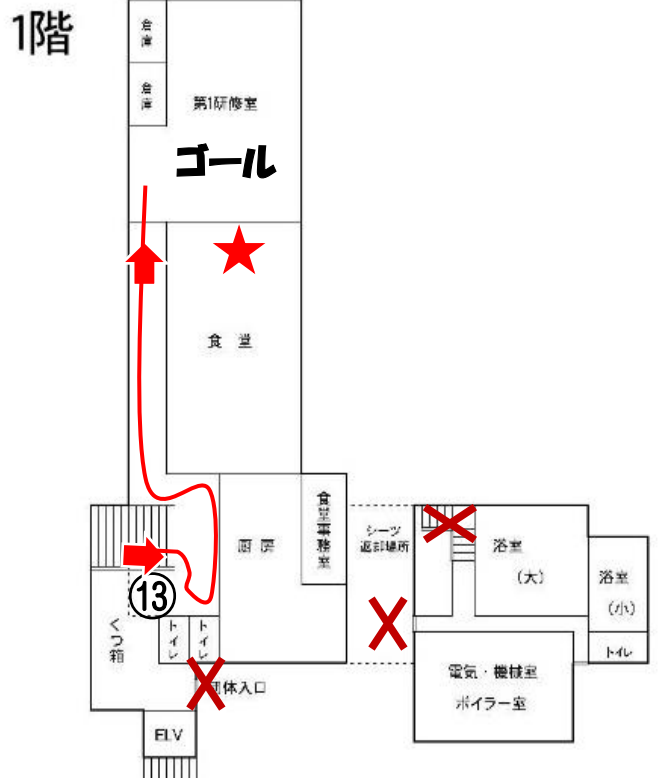
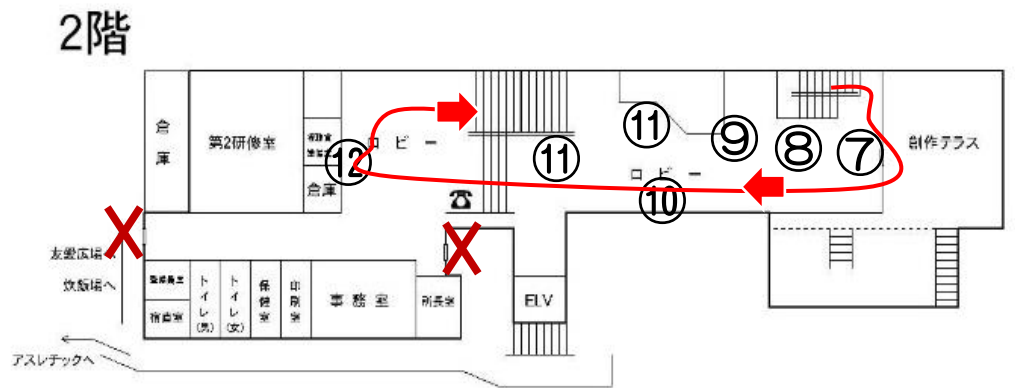
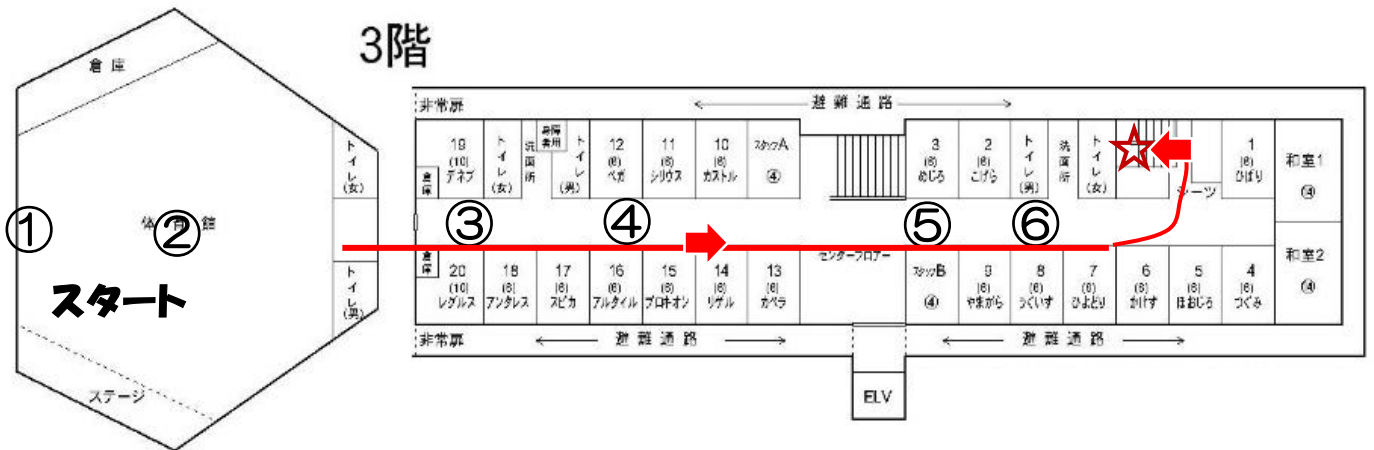


館内ウォーク



三滝の豊かな自然を探検しよう！

星・鳥・植物……

館内をゆっくり

楽しんでね！



班 名前 _____

順番	館内ウォーク/解答用紙1	解 答	答 え
①	たいいくかん 体育館ステージ右側の防護さく上部に星の絵が掲げてあります。この 星の名前 は？ A.火星 B.水星 C.金星 D.木星 E.土星		
②	体育館の真ん中あたりから 北はどの方向 でしょう？ A.ステージ B.クモの巣ネット C.うんてい D.つりはしご		
③	「 夏の三角形 」は、ベガとアルタイルと あと一つ は何だっけ？ ※ヒント 宿泊室の名前（星）の中に答えがあるよ！ どの部屋かな？		
④	しゅくはくしつ 宿泊室12の星は 何座 ？ A.しし座 B.こと座 C.わし座		
⑤	ミタッキーのモデルになった鳥は、 何番の宿泊室 ？		
⑥	宿泊室8の鳥は 何で鳴く ？ 		
おまけ	ツバメが巣をつくるときに使うものは？ A.どろ B.小石 C.はりがね D.自分の羽		
	よくしつ (浴室に行く3F～2Fの階段おどり場に掲げている絵) お風呂に入っている 動物 は何でしょう？		
⑦	図書コーナー横の掲示板 自然観察コーナー「 三滝で見られる花や実 」の 写真 を見て、あなたが いちばん気に入った花や実 はどれ？ その名前をかいてね。		

※①から順に歩きます。A・B・C・・・はどれか1つを記入してください。

順番	館内ウォーク/解答用紙2	解 答	答 え		
⑧	図書コーナー横の掲示板上 星空博士になろう おもしろクイズ に挑戦	クイズ①	クイズ④		
		クイズ②	クイズ⑤		
		クイズ③	クイズ⑥		
⑨	図書コーナー入口の上部に掲げている⑨の鳥の名前は? 図書コーナーにある「野鳥観察ハンデイク <small>ずかん</small> 新・山野の鳥」を使って調べてみよう。 ※ヒント 図鑑のP14～P21のどこかに書いてあるよ。				
⑩	窓ガラスに タカの絵 がはってあるのは なぜ でしょう?				
⑪	2Fロビー どうぶつクイズ6問 に挑戦	クイズ①	クイズ④		
		クイズ②	クイズ⑤		
		クイズ③	クイズ⑥		
⑫	ガラスケースの中のジオラマを見てください。 三滝の 三つの滝の名前は、駒が滝、梵音の滝、幽明の滝 である。 ○か×か?				
⑬	(1Fくつ箱のフロアにある木に書いてある) 教育目標(2) 【集団宿泊生活を通じて、 規<small>きりつ</small>律・協<small>きょうどう</small>同・〇〇・奉<small>ほうし</small>仕の精神を養<small>やしな</small>う こと。〇〇 に入る言葉 は何でしょう?				
★	食堂の後ろに大きな絵が掲げてあります。 何の絵 かな? A 池 B 海 C 島 D 湖 E 滝				

※①から順に歩きます。A・B・C・・・はどれか1つを記入してください。

	館内ウォーク/解答用紙1	解 答	答 え
①	たいいくかん 体育館ステージ右側の防護さく上部に星の絵が掲げてあります。この 星の名前 は？ A.火星 B.水星 C.金星 D.木星 E.土星		E
②	体育館の真ん中あたりから 北はどの方向 でしょう？ A.ステージ B.クモの巣ネット C.うんてい D.つりはしご		C
③	「 夏の三角形 」は、ベガとアルタイルと あと一つ は何だっけ？ ※ヒント 宿泊室の名前（星）の中に答えがあるよ！ どの部屋かな？		デネブ
④	しゅくはくしつ 宿泊室12の星は 何座 ？ A.しし座 B.こと座 C.わし座		B
⑤	ミタッキーのモデルになった鳥は、 何番の宿泊室 ？		3
⑥	宿泊室8の鳥は 何で鳴く ？		ホーホケキョ
おまけ	ツバメが巣をつくる時に使うものは？ A.どろ B.小石 C.はりがね D.自分の羽		A
	よくしつ (浴室に行く3F～2Fの階段おどり場に掲げている絵) お風呂に入っている 動物 は何でしょう？		イノシシ
⑦	自然観察コーナー「 三滝で見られる花や実 」の 写真 を見て、あなたが いちばん気に入った花や実 はどれ？ その名前をかいてね。		名前がかいてあれば OK

※①から順に歩きます。A・B・C・・・はどれか1つを記入してください。

順番	館内ウォーク/解答用紙2	解 答	答 え		
⑧	図書コーナー横の掲示板 星空博士になろう おもしろクイズ に挑戦	クイズ①	イ	クイズ④	ウ
		クイズ②	ア	クイズ⑤	×
		クイズ③	ある	クイズ⑥	
⑨	図書コーナー入口の上部に掲げてある⑨の鳥の名前は? 図書コーナーにある「野鳥観察ハンデイク <small>ずかん</small> 新・山野の鳥」を使って調べてみよう。 ※ヒント 図鑑のP14～P21のどこかに書いてあるよ。		何か数字が書いてあればOK コゲラ		
⑩	窓ガラスに タカ の絵がはってあるのは なぜ でしょう?		小鳥がぶつかるのを防ぐため		
⑪	2Fロビー どうぶつクイズ6問 に挑戦	クイズ①	1	クイズ④	2
		クイズ②	2	クイズ⑤	3
		クイズ③	3	クイズ⑥	2
⑫	ガラスケースの中のジオラマを見てください。 三滝の 三つの滝 の名前は、 駒が滝 、 梵音の滝 、 幽明の滝 である。 ○か×か?		○		
⑬	(1Fくつ箱のフロアにある木に書いてある) 教育目標(2) 【集団宿泊生活を通じて、 規律 ・ 協同 ・ 〇〇 ・ 奉仕 の精神を 養う こと。 〇〇 に入る 言葉 は何でしょう?		友愛		
★	食堂の後ろに大きな絵が掲げてあります。 何の絵 かな? A 池 B 海 C 島 D 湖 E 滝		E		

※①から順に歩きます。A・B・C・・・はどれか1つを記入してください。